






CONTENANCE	Séquence 1	Séance 2
CE1	TRACE ÉCRITE AVEC CONCLUSION	

	Combien d'étalons faut-il pour remplir la bouteille ? Les trois bouteilles sont identiques.
	
	Les étalons utilisés sont différents.
	La bouteille A peut contenir La bouteille B peut contenir La bouteille C peut contenir
	Selon l'étalon choisi, le nombre varie. Plus l'étalon est petit, plus il en faut pour remplir la bouteille. Plus l'étalon est grand, moins il en faut pour remplir la bouteille.